


## Sachaufgaben 31a



1. Beim Bogenschießen hat Sammy 5 Schüsse gemacht. Er trifft zweimal die 10, einmal die 8, einmal die 6 und einmal die 5. Wie viele Punkte hat er geschafft?

|     |  |  |  |  |  |  |  |  |  |  |  |  |  |  |  |  |  |  |  |  |
|-----|--|--|--|--|--|--|--|--|--|--|--|--|--|--|--|--|--|--|--|--|
| R : |  |  |  |  |  |  |  |  |  |  |  |  |  |  |  |  |  |  |  |  |
|     |  |  |  |  |  |  |  |  |  |  |  |  |  |  |  |  |  |  |  |  |
|     |  |  |  |  |  |  |  |  |  |  |  |  |  |  |  |  |  |  |  |  |
| A : |  |  |  |  |  |  |  |  |  |  |  |  |  |  |  |  |  |  |  |  |

2. Beim Bogenschießen hat Sammy 5 Schüsse gemacht. Er trifft zweimal die 9 und dreimal die 7. Wie viele Punkte hat er geschafft?

|     |  |  |  |  |  |  |  |  |  |  |  |  |  |  |  |  |  |  |  |  |
|-----|--|--|--|--|--|--|--|--|--|--|--|--|--|--|--|--|--|--|--|--|
| R : |  |  |  |  |  |  |  |  |  |  |  |  |  |  |  |  |  |  |  |  |
|     |  |  |  |  |  |  |  |  |  |  |  |  |  |  |  |  |  |  |  |  |
|     |  |  |  |  |  |  |  |  |  |  |  |  |  |  |  |  |  |  |  |  |
| A : |  |  |  |  |  |  |  |  |  |  |  |  |  |  |  |  |  |  |  |  |


3. Beim Bogenschießen hat Sammy 5 Schüsse gemacht. Er trifft zweimal die 8, einmal die 7 und zweimal die 6. Wie viele Punkte hat er geschafft?

|     |  |  |  |  |  |  |  |  |  |  |  |  |  |  |  |  |  |  |  |  |
|-----|--|--|--|--|--|--|--|--|--|--|--|--|--|--|--|--|--|--|--|--|
| R : |  |  |  |  |  |  |  |  |  |  |  |  |  |  |  |  |  |  |  |  |
|     |  |  |  |  |  |  |  |  |  |  |  |  |  |  |  |  |  |  |  |  |
|     |  |  |  |  |  |  |  |  |  |  |  |  |  |  |  |  |  |  |  |  |
| A : |  |  |  |  |  |  |  |  |  |  |  |  |  |  |  |  |  |  |  |  |

4. Beim Bogenschießen hat Sammy 5 Schüsse gemacht. Er trifft viermal die 8 und einmal die 4. Wie viele Punkte hat er geschafft?

|     |  |  |  |  |  |  |  |  |  |  |  |  |  |  |  |  |  |  |  |  |
|-----|--|--|--|--|--|--|--|--|--|--|--|--|--|--|--|--|--|--|--|--|
| R : |  |  |  |  |  |  |  |  |  |  |  |  |  |  |  |  |  |  |  |  |
|     |  |  |  |  |  |  |  |  |  |  |  |  |  |  |  |  |  |  |  |  |
|     |  |  |  |  |  |  |  |  |  |  |  |  |  |  |  |  |  |  |  |  |
| A : |  |  |  |  |  |  |  |  |  |  |  |  |  |  |  |  |  |  |  |  |

## Sachaufgaben 31b



1. Beim Bogenschießen hat Sammy in der ersten Runde 24 Punkte geschafft und in der zweiten Runde 42. Wie viele Punkte hat er?

|     |  |  |  |  |  |  |  |  |  |  |  |  |  |  |  |  |  |  |  |  |  |  |  |
|-----|--|--|--|--|--|--|--|--|--|--|--|--|--|--|--|--|--|--|--|--|--|--|--|
| R : |  |  |  |  |  |  |  |  |  |  |  |  |  |  |  |  |  |  |  |  |  |  |  |
|     |  |  |  |  |  |  |  |  |  |  |  |  |  |  |  |  |  |  |  |  |  |  |  |
|     |  |  |  |  |  |  |  |  |  |  |  |  |  |  |  |  |  |  |  |  |  |  |  |
| A : |  |  |  |  |  |  |  |  |  |  |  |  |  |  |  |  |  |  |  |  |  |  |  |

2. Beim Bogenschießen hat Sammy in der ersten Runde 49 Punkte geschafft und in der zweiten Runde 37. Wie viele Punkte hat er?

|     |  |  |  |  |  |  |  |  |  |  |  |  |  |  |  |  |  |  |  |  |  |  |  |
|-----|--|--|--|--|--|--|--|--|--|--|--|--|--|--|--|--|--|--|--|--|--|--|--|
| R : |  |  |  |  |  |  |  |  |  |  |  |  |  |  |  |  |  |  |  |  |  |  |  |
|     |  |  |  |  |  |  |  |  |  |  |  |  |  |  |  |  |  |  |  |  |  |  |  |
|     |  |  |  |  |  |  |  |  |  |  |  |  |  |  |  |  |  |  |  |  |  |  |  |
| A : |  |  |  |  |  |  |  |  |  |  |  |  |  |  |  |  |  |  |  |  |  |  |  |

3. Beim Bogenschießen hat Sammy in der ersten Runde 36 Punkte geschafft und in der zweiten Runde 24. Wie viele Punkte hat er?

|     |  |  |  |  |  |  |  |  |  |  |  |  |  |  |  |  |  |  |  |  |  |  |  |
|-----|--|--|--|--|--|--|--|--|--|--|--|--|--|--|--|--|--|--|--|--|--|--|--|
| R : |  |  |  |  |  |  |  |  |  |  |  |  |  |  |  |  |  |  |  |  |  |  |  |
|     |  |  |  |  |  |  |  |  |  |  |  |  |  |  |  |  |  |  |  |  |  |  |  |
|     |  |  |  |  |  |  |  |  |  |  |  |  |  |  |  |  |  |  |  |  |  |  |  |
| A : |  |  |  |  |  |  |  |  |  |  |  |  |  |  |  |  |  |  |  |  |  |  |  |

4. Beim Bogenschießen hat Sammy am Montag 123 Punkte geschafft und am Dienstag 234. Wie viele Punkte sind das?

|     |  |  |  |  |  |  |  |  |  |  |  |  |  |  |  |  |  |  |  |  |  |  |  |
|-----|--|--|--|--|--|--|--|--|--|--|--|--|--|--|--|--|--|--|--|--|--|--|--|
| R : |  |  |  |  |  |  |  |  |  |  |  |  |  |  |  |  |  |  |  |  |  |  |  |
|     |  |  |  |  |  |  |  |  |  |  |  |  |  |  |  |  |  |  |  |  |  |  |  |
|     |  |  |  |  |  |  |  |  |  |  |  |  |  |  |  |  |  |  |  |  |  |  |  |
| A : |  |  |  |  |  |  |  |  |  |  |  |  |  |  |  |  |  |  |  |  |  |  |  |

## Sachaufgaben 32a



1. Für den Ritt durch die Hindernisse braucht Mia 2 min.  
Ihre Freundin Mona braucht 12 s mehr. Wie lange braucht  
Mona?

|     |  |  |  |  |  |  |  |  |  |  |  |  |  |  |  |  |  |  |  |  |
|-----|--|--|--|--|--|--|--|--|--|--|--|--|--|--|--|--|--|--|--|--|
| R : |  |  |  |  |  |  |  |  |  |  |  |  |  |  |  |  |  |  |  |  |
|     |  |  |  |  |  |  |  |  |  |  |  |  |  |  |  |  |  |  |  |  |
|     |  |  |  |  |  |  |  |  |  |  |  |  |  |  |  |  |  |  |  |  |
| A : |  |  |  |  |  |  |  |  |  |  |  |  |  |  |  |  |  |  |  |  |

2. Für den Ritt durch die Hindernisse braucht Mia 2min 30s.  
Ihre Freundin Mona braucht 18 s weniger. Wie lange braucht Mona?

|     |  |  |  |  |  |  |  |  |  |  |  |  |  |  |  |  |  |  |  |  |
|-----|--|--|--|--|--|--|--|--|--|--|--|--|--|--|--|--|--|--|--|--|
| R : |  |  |  |  |  |  |  |  |  |  |  |  |  |  |  |  |  |  |  |  |
|     |  |  |  |  |  |  |  |  |  |  |  |  |  |  |  |  |  |  |  |  |
|     |  |  |  |  |  |  |  |  |  |  |  |  |  |  |  |  |  |  |  |  |
| A : |  |  |  |  |  |  |  |  |  |  |  |  |  |  |  |  |  |  |  |  |

3. Für den Ritt durch die Hindernisse braucht Mia 1min 30s.  
Ihre Freundin Mona braucht 32 s mehr. Wie lange braucht Mona?

|     |  |  |  |  |  |  |  |  |  |  |  |  |  |  |  |  |  |  |  |  |
|-----|--|--|--|--|--|--|--|--|--|--|--|--|--|--|--|--|--|--|--|--|
| R : |  |  |  |  |  |  |  |  |  |  |  |  |  |  |  |  |  |  |  |  |
|     |  |  |  |  |  |  |  |  |  |  |  |  |  |  |  |  |  |  |  |  |
|     |  |  |  |  |  |  |  |  |  |  |  |  |  |  |  |  |  |  |  |  |
| A : |  |  |  |  |  |  |  |  |  |  |  |  |  |  |  |  |  |  |  |  |

4. Für den Ritt durch die Hindernisse braucht Mia 1min 50s.  
Ihre Freundin Mona braucht 20 s mehr. Wie lange braucht Mona?

|     |  |  |  |  |  |  |  |  |  |  |  |  |  |  |  |  |  |  |  |  |
|-----|--|--|--|--|--|--|--|--|--|--|--|--|--|--|--|--|--|--|--|--|
| R : |  |  |  |  |  |  |  |  |  |  |  |  |  |  |  |  |  |  |  |  |
|     |  |  |  |  |  |  |  |  |  |  |  |  |  |  |  |  |  |  |  |  |
|     |  |  |  |  |  |  |  |  |  |  |  |  |  |  |  |  |  |  |  |  |
| A : |  |  |  |  |  |  |  |  |  |  |  |  |  |  |  |  |  |  |  |  |

## Sachaufgaben 32b



1. Für den Ritt durch die Hindernisse braucht Mia 3 min.  
Ihre Freundin Mona braucht 42 s mehr. Wie lange braucht  
Mona?

|     |  |  |  |  |  |  |  |  |  |  |  |  |  |  |  |  |  |  |  |  |
|-----|--|--|--|--|--|--|--|--|--|--|--|--|--|--|--|--|--|--|--|--|
| R : |  |  |  |  |  |  |  |  |  |  |  |  |  |  |  |  |  |  |  |  |
|     |  |  |  |  |  |  |  |  |  |  |  |  |  |  |  |  |  |  |  |  |
|     |  |  |  |  |  |  |  |  |  |  |  |  |  |  |  |  |  |  |  |  |
| A : |  |  |  |  |  |  |  |  |  |  |  |  |  |  |  |  |  |  |  |  |

2. Für den Ritt durch die Hindernisse braucht Mia 3min 10s.  
Ihre Freundin Mona braucht 18 s weniger. Wie lange braucht Mona?

|     |  |  |  |  |  |  |  |  |  |  |  |  |  |  |  |  |  |  |  |  |
|-----|--|--|--|--|--|--|--|--|--|--|--|--|--|--|--|--|--|--|--|--|
| R : |  |  |  |  |  |  |  |  |  |  |  |  |  |  |  |  |  |  |  |  |
|     |  |  |  |  |  |  |  |  |  |  |  |  |  |  |  |  |  |  |  |  |
|     |  |  |  |  |  |  |  |  |  |  |  |  |  |  |  |  |  |  |  |  |
| A : |  |  |  |  |  |  |  |  |  |  |  |  |  |  |  |  |  |  |  |  |

3. Für den Ritt durch die Hindernisse braucht Mia 2min 30s.  
Ihre Freundin Mona braucht 48 s mehr. Wie lange braucht Mona?

|     |  |  |  |  |  |  |  |  |  |  |  |  |  |  |  |  |  |  |  |  |
|-----|--|--|--|--|--|--|--|--|--|--|--|--|--|--|--|--|--|--|--|--|
| R : |  |  |  |  |  |  |  |  |  |  |  |  |  |  |  |  |  |  |  |  |
|     |  |  |  |  |  |  |  |  |  |  |  |  |  |  |  |  |  |  |  |  |
|     |  |  |  |  |  |  |  |  |  |  |  |  |  |  |  |  |  |  |  |  |
| A : |  |  |  |  |  |  |  |  |  |  |  |  |  |  |  |  |  |  |  |  |

4. Für den Ritt durch die Hindernisse braucht Mia 2min 50s.  
Ihre Freundin Mona braucht 52 s mehr. Wie lange braucht Mona?

|     |  |  |  |  |  |  |  |  |  |  |  |  |  |  |  |  |  |  |  |  |
|-----|--|--|--|--|--|--|--|--|--|--|--|--|--|--|--|--|--|--|--|--|
| R : |  |  |  |  |  |  |  |  |  |  |  |  |  |  |  |  |  |  |  |  |
|     |  |  |  |  |  |  |  |  |  |  |  |  |  |  |  |  |  |  |  |  |
|     |  |  |  |  |  |  |  |  |  |  |  |  |  |  |  |  |  |  |  |  |
| A : |  |  |  |  |  |  |  |  |  |  |  |  |  |  |  |  |  |  |  |  |

## Sachaufgaben 33a



1. Roland macht einen Ausflug mit dem Fahrrad. Er fährt am Vormittag 32 km und am Nachmittag 26 km. Wie viele km ist er gefahren?

|     |  |  |  |  |  |  |  |  |  |  |  |  |  |  |  |  |  |  |  |
|-----|--|--|--|--|--|--|--|--|--|--|--|--|--|--|--|--|--|--|--|
| R : |  |  |  |  |  |  |  |  |  |  |  |  |  |  |  |  |  |  |  |
|     |  |  |  |  |  |  |  |  |  |  |  |  |  |  |  |  |  |  |  |
|     |  |  |  |  |  |  |  |  |  |  |  |  |  |  |  |  |  |  |  |
| A : |  |  |  |  |  |  |  |  |  |  |  |  |  |  |  |  |  |  |  |

2. Roland macht einen Ausflug mit dem Fahrrad. Er fährt am Vormittag 49 km und am Nachmittag 36 km. Wie viele km ist er gefahren?

|     |  |  |  |  |  |  |  |  |  |  |  |  |  |  |  |  |  |  |  |
|-----|--|--|--|--|--|--|--|--|--|--|--|--|--|--|--|--|--|--|--|
| R : |  |  |  |  |  |  |  |  |  |  |  |  |  |  |  |  |  |  |  |
|     |  |  |  |  |  |  |  |  |  |  |  |  |  |  |  |  |  |  |  |
|     |  |  |  |  |  |  |  |  |  |  |  |  |  |  |  |  |  |  |  |
| A : |  |  |  |  |  |  |  |  |  |  |  |  |  |  |  |  |  |  |  |

3. Roland macht einen Ausflug mit dem Fahrrad. Er fährt am ersten Tag 78 km und am zweiten Tag 56 km. Wie viele km ist er gefahren?

|     |  |  |  |  |  |  |  |  |  |  |  |  |  |  |  |  |  |  |  |
|-----|--|--|--|--|--|--|--|--|--|--|--|--|--|--|--|--|--|--|--|
| R : |  |  |  |  |  |  |  |  |  |  |  |  |  |  |  |  |  |  |  |
|     |  |  |  |  |  |  |  |  |  |  |  |  |  |  |  |  |  |  |  |
|     |  |  |  |  |  |  |  |  |  |  |  |  |  |  |  |  |  |  |  |
| A : |  |  |  |  |  |  |  |  |  |  |  |  |  |  |  |  |  |  |  |

4. Roland macht einen Ausflug mit dem Fahrrad und möchte 200 km fahren. 145 km hat er schon geschafft. Wie viele km muss er noch fahren?

|     |  |  |  |  |  |  |  |  |  |  |  |  |  |  |  |  |  |  |  |
|-----|--|--|--|--|--|--|--|--|--|--|--|--|--|--|--|--|--|--|--|
| R : |  |  |  |  |  |  |  |  |  |  |  |  |  |  |  |  |  |  |  |
|     |  |  |  |  |  |  |  |  |  |  |  |  |  |  |  |  |  |  |  |
|     |  |  |  |  |  |  |  |  |  |  |  |  |  |  |  |  |  |  |  |
| A : |  |  |  |  |  |  |  |  |  |  |  |  |  |  |  |  |  |  |  |

## Sachaufgaben 33b



1. Roland macht einen Ausflug mit dem Fahrrad und möchte 500 km fahren. 275 km hat er schon geschafft. Wie viele km muss er noch fahren?

|     |  |  |  |  |  |  |  |  |  |  |  |  |  |  |  |  |  |  |  |
|-----|--|--|--|--|--|--|--|--|--|--|--|--|--|--|--|--|--|--|--|
| R : |  |  |  |  |  |  |  |  |  |  |  |  |  |  |  |  |  |  |  |
|     |  |  |  |  |  |  |  |  |  |  |  |  |  |  |  |  |  |  |  |
|     |  |  |  |  |  |  |  |  |  |  |  |  |  |  |  |  |  |  |  |
|     |  |  |  |  |  |  |  |  |  |  |  |  |  |  |  |  |  |  |  |
| A : |  |  |  |  |  |  |  |  |  |  |  |  |  |  |  |  |  |  |  |

2. Roland macht einen Ausflug mit dem Fahrrad und möchte 1000 km fahren. 645 km hat er schon geschafft. Wie viele km muss er noch fahren?

|     |  |  |  |  |  |  |  |  |  |  |  |  |  |  |  |  |  |  |  |
|-----|--|--|--|--|--|--|--|--|--|--|--|--|--|--|--|--|--|--|--|
| R : |  |  |  |  |  |  |  |  |  |  |  |  |  |  |  |  |  |  |  |
|     |  |  |  |  |  |  |  |  |  |  |  |  |  |  |  |  |  |  |  |
|     |  |  |  |  |  |  |  |  |  |  |  |  |  |  |  |  |  |  |  |
|     |  |  |  |  |  |  |  |  |  |  |  |  |  |  |  |  |  |  |  |
| A : |  |  |  |  |  |  |  |  |  |  |  |  |  |  |  |  |  |  |  |


3. Roland macht einen Ausflug mit dem Fahrrad. Er fährt am ersten Tag 128 km und am zweiten Tag 243 km. Wie viele km ist er gefahren?

|     |  |  |  |  |  |  |  |  |  |  |  |  |  |  |  |  |  |  |  |
|-----|--|--|--|--|--|--|--|--|--|--|--|--|--|--|--|--|--|--|--|
| R : |  |  |  |  |  |  |  |  |  |  |  |  |  |  |  |  |  |  |  |
|     |  |  |  |  |  |  |  |  |  |  |  |  |  |  |  |  |  |  |  |
|     |  |  |  |  |  |  |  |  |  |  |  |  |  |  |  |  |  |  |  |
|     |  |  |  |  |  |  |  |  |  |  |  |  |  |  |  |  |  |  |  |
| A : |  |  |  |  |  |  |  |  |  |  |  |  |  |  |  |  |  |  |  |

4. Roland macht einen Ausflug mit dem Fahrrad. Er fährt am ersten Tag 113 km und am zweiten Tag 89 km. Wie viele km ist er gefahren?

|     |  |  |  |  |  |  |  |  |  |  |  |  |  |  |  |  |  |  |  |
|-----|--|--|--|--|--|--|--|--|--|--|--|--|--|--|--|--|--|--|--|
| R : |  |  |  |  |  |  |  |  |  |  |  |  |  |  |  |  |  |  |  |
|     |  |  |  |  |  |  |  |  |  |  |  |  |  |  |  |  |  |  |  |
|     |  |  |  |  |  |  |  |  |  |  |  |  |  |  |  |  |  |  |  |
|     |  |  |  |  |  |  |  |  |  |  |  |  |  |  |  |  |  |  |  |
| A : |  |  |  |  |  |  |  |  |  |  |  |  |  |  |  |  |  |  |  |

## Sachaufgaben 34a



1. Biene Sumsi sammelt Honig. Am Vormittag besucht sie 243 Blumen und am Nachmittag 179 Blumen. Wie viele Blumen hat sie besucht?

|     |  |  |  |  |  |  |  |  |  |  |  |  |  |  |  |  |  |  |  |  |  |  |  |  |  |
|-----|--|--|--|--|--|--|--|--|--|--|--|--|--|--|--|--|--|--|--|--|--|--|--|--|--|
| R : |  |  |  |  |  |  |  |  |  |  |  |  |  |  |  |  |  |  |  |  |  |  |  |  |  |
|     |  |  |  |  |  |  |  |  |  |  |  |  |  |  |  |  |  |  |  |  |  |  |  |  |  |
|     |  |  |  |  |  |  |  |  |  |  |  |  |  |  |  |  |  |  |  |  |  |  |  |  |  |
| A : |  |  |  |  |  |  |  |  |  |  |  |  |  |  |  |  |  |  |  |  |  |  |  |  |  |

2. Biene Sumsi sammelt Honig. Am Vormittag besucht sie 345 Blumen und am Nachmittag 59 Blumen. Wie viele Blumen hat sie besucht?

|     |  |  |  |  |  |  |  |  |  |  |  |  |  |  |  |  |  |  |  |  |  |  |  |  |  |
|-----|--|--|--|--|--|--|--|--|--|--|--|--|--|--|--|--|--|--|--|--|--|--|--|--|--|
| R : |  |  |  |  |  |  |  |  |  |  |  |  |  |  |  |  |  |  |  |  |  |  |  |  |  |
|     |  |  |  |  |  |  |  |  |  |  |  |  |  |  |  |  |  |  |  |  |  |  |  |  |  |
|     |  |  |  |  |  |  |  |  |  |  |  |  |  |  |  |  |  |  |  |  |  |  |  |  |  |
| A : |  |  |  |  |  |  |  |  |  |  |  |  |  |  |  |  |  |  |  |  |  |  |  |  |  |

3. Biene Sumsi sammelt Honig. Sie will 500 Blumen besuchen. 254 hat sie schon geschafft. Wie viele Blumen muss sie noch besuchen?


|     |  |  |  |  |  |  |  |  |  |  |  |  |  |  |  |  |  |  |  |  |  |  |  |  |  |
|-----|--|--|--|--|--|--|--|--|--|--|--|--|--|--|--|--|--|--|--|--|--|--|--|--|--|
| R : |  |  |  |  |  |  |  |  |  |  |  |  |  |  |  |  |  |  |  |  |  |  |  |  |  |
|     |  |  |  |  |  |  |  |  |  |  |  |  |  |  |  |  |  |  |  |  |  |  |  |  |  |
|     |  |  |  |  |  |  |  |  |  |  |  |  |  |  |  |  |  |  |  |  |  |  |  |  |  |
| A : |  |  |  |  |  |  |  |  |  |  |  |  |  |  |  |  |  |  |  |  |  |  |  |  |  |

4. Biene Sumsi sammelt Honig. Sie will 1000 Blumen besuchen. 549 hat sie schon geschafft. Wie viele Blumen muss sie noch besuchen?


|     |  |  |  |  |  |  |  |  |  |  |  |  |  |  |  |  |  |  |  |  |  |  |  |  |  |
|-----|--|--|--|--|--|--|--|--|--|--|--|--|--|--|--|--|--|--|--|--|--|--|--|--|--|
| R : |  |  |  |  |  |  |  |  |  |  |  |  |  |  |  |  |  |  |  |  |  |  |  |  |  |
|     |  |  |  |  |  |  |  |  |  |  |  |  |  |  |  |  |  |  |  |  |  |  |  |  |  |
|     |  |  |  |  |  |  |  |  |  |  |  |  |  |  |  |  |  |  |  |  |  |  |  |  |  |
| A : |  |  |  |  |  |  |  |  |  |  |  |  |  |  |  |  |  |  |  |  |  |  |  |  |  |







## Sachaufgaben 35a



1. Der Diliphosaurus wiegt 875 kg. Der Abeliosaurus wiegt 457 kg. Um wie viel wiegt der Diliphosaurus mehr?

|     |  |  |  |  |  |  |  |  |  |  |  |  |  |  |  |  |  |  |  |
|-----|--|--|--|--|--|--|--|--|--|--|--|--|--|--|--|--|--|--|--|
| R : |  |  |  |  |  |  |  |  |  |  |  |  |  |  |  |  |  |  |  |
|     |  |  |  |  |  |  |  |  |  |  |  |  |  |  |  |  |  |  |  |
|     |  |  |  |  |  |  |  |  |  |  |  |  |  |  |  |  |  |  |  |
| A : |  |  |  |  |  |  |  |  |  |  |  |  |  |  |  |  |  |  |  |

2. Der Diliphosaurus wiegt 935 kg. Der Abeliosaurus wiegt 369 kg. Um wie viel wiegt der Diliphosaurus mehr?


|     |  |  |  |  |  |  |  |  |  |  |  |  |  |  |  |  |  |  |  |
|-----|--|--|--|--|--|--|--|--|--|--|--|--|--|--|--|--|--|--|--|
| R : |  |  |  |  |  |  |  |  |  |  |  |  |  |  |  |  |  |  |  |
|     |  |  |  |  |  |  |  |  |  |  |  |  |  |  |  |  |  |  |  |
|     |  |  |  |  |  |  |  |  |  |  |  |  |  |  |  |  |  |  |  |
| A : |  |  |  |  |  |  |  |  |  |  |  |  |  |  |  |  |  |  |  |

3. Der Diliphosaurus wiegt 475 kg. Der Abeliosaurus wiegt 287 kg. Wie viel wiegen beide zusammen?


|     |  |  |  |  |  |  |  |  |  |  |  |  |  |  |  |  |  |  |  |
|-----|--|--|--|--|--|--|--|--|--|--|--|--|--|--|--|--|--|--|--|
| R : |  |  |  |  |  |  |  |  |  |  |  |  |  |  |  |  |  |  |  |
|     |  |  |  |  |  |  |  |  |  |  |  |  |  |  |  |  |  |  |  |
|     |  |  |  |  |  |  |  |  |  |  |  |  |  |  |  |  |  |  |  |
| A : |  |  |  |  |  |  |  |  |  |  |  |  |  |  |  |  |  |  |  |

4. Der Diliphosaurus wiegt 535 kg. Der Abeliosaurus wiegt 326 kg. Wie viel wiegen beide zusammen?

|     |  |  |  |  |  |  |  |  |  |  |  |  |  |  |  |  |  |  |  |
|-----|--|--|--|--|--|--|--|--|--|--|--|--|--|--|--|--|--|--|--|
| R : |  |  |  |  |  |  |  |  |  |  |  |  |  |  |  |  |  |  |  |
|     |  |  |  |  |  |  |  |  |  |  |  |  |  |  |  |  |  |  |  |
|     |  |  |  |  |  |  |  |  |  |  |  |  |  |  |  |  |  |  |  |
| A : |  |  |  |  |  |  |  |  |  |  |  |  |  |  |  |  |  |  |  |



## Sachaufgaben 35b



1. Der Dilophosaurus wiegt 935 kg. Der Abeliosaurus wiegt 657 kg. Um wie viel wiegt der Dilophosaurus mehr?

|     |  |  |  |  |  |  |  |  |  |  |  |  |  |  |  |  |  |  |  |
|-----|--|--|--|--|--|--|--|--|--|--|--|--|--|--|--|--|--|--|--|
| R : |  |  |  |  |  |  |  |  |  |  |  |  |  |  |  |  |  |  |  |
|     |  |  |  |  |  |  |  |  |  |  |  |  |  |  |  |  |  |  |  |
|     |  |  |  |  |  |  |  |  |  |  |  |  |  |  |  |  |  |  |  |
| A : |  |  |  |  |  |  |  |  |  |  |  |  |  |  |  |  |  |  |  |

2. Der Dilophosaurus wiegt 936 kg. Der Abeliosaurus wiegt die Hälfte. Wie viel wiegt der Abeliosaurus?

|     |  |  |  |  |  |  |  |  |  |  |  |  |  |  |  |  |  |  |  |
|-----|--|--|--|--|--|--|--|--|--|--|--|--|--|--|--|--|--|--|--|
| R : |  |  |  |  |  |  |  |  |  |  |  |  |  |  |  |  |  |  |  |
|     |  |  |  |  |  |  |  |  |  |  |  |  |  |  |  |  |  |  |  |
|     |  |  |  |  |  |  |  |  |  |  |  |  |  |  |  |  |  |  |  |
| A : |  |  |  |  |  |  |  |  |  |  |  |  |  |  |  |  |  |  |  |

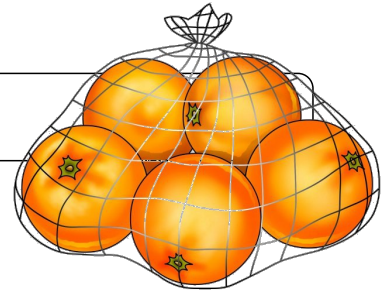
3. Der Abeliosaurus wiegt 435 kg. Der Dilophosaurus wiegt das Doppelte. Wie viel wiegt der Dilophosaurus?

|     |  |  |  |  |  |  |  |  |  |  |  |  |  |  |  |  |  |  |  |
|-----|--|--|--|--|--|--|--|--|--|--|--|--|--|--|--|--|--|--|--|
| R : |  |  |  |  |  |  |  |  |  |  |  |  |  |  |  |  |  |  |  |
|     |  |  |  |  |  |  |  |  |  |  |  |  |  |  |  |  |  |  |  |
|     |  |  |  |  |  |  |  |  |  |  |  |  |  |  |  |  |  |  |  |
| A : |  |  |  |  |  |  |  |  |  |  |  |  |  |  |  |  |  |  |  |

4. Der Dilophosaurus wiegt 489 kg. Der Abeliosaurus wiegt 246 kg. Wie viel wiegen beide zusammen?

|     |  |  |  |  |  |  |  |  |  |  |  |  |  |  |  |  |  |  |  |
|-----|--|--|--|--|--|--|--|--|--|--|--|--|--|--|--|--|--|--|--|
| R : |  |  |  |  |  |  |  |  |  |  |  |  |  |  |  |  |  |  |  |
|     |  |  |  |  |  |  |  |  |  |  |  |  |  |  |  |  |  |  |  |
|     |  |  |  |  |  |  |  |  |  |  |  |  |  |  |  |  |  |  |  |
| A : |  |  |  |  |  |  |  |  |  |  |  |  |  |  |  |  |  |  |  |

## Sachaufgaben 36a



1. In einem Netz sind 5 Orangen.  
Wie viele Orangen sind in 9 Netzen?

|     |  |  |  |  |  |  |  |  |  |  |  |  |  |  |  |  |  |  |  |  |
|-----|--|--|--|--|--|--|--|--|--|--|--|--|--|--|--|--|--|--|--|--|
| R : |  |  |  |  |  |  |  |  |  |  |  |  |  |  |  |  |  |  |  |  |
|     |  |  |  |  |  |  |  |  |  |  |  |  |  |  |  |  |  |  |  |  |
|     |  |  |  |  |  |  |  |  |  |  |  |  |  |  |  |  |  |  |  |  |
| A : |  |  |  |  |  |  |  |  |  |  |  |  |  |  |  |  |  |  |  |  |

2. In einem Netz sind 5 Orangen.  
Wie viele Netze kann man mit 40 Orangen füllen?

|     |  |  |  |  |  |  |  |  |  |  |  |  |  |  |  |  |  |  |  |  |
|-----|--|--|--|--|--|--|--|--|--|--|--|--|--|--|--|--|--|--|--|--|
| R : |  |  |  |  |  |  |  |  |  |  |  |  |  |  |  |  |  |  |  |  |
|     |  |  |  |  |  |  |  |  |  |  |  |  |  |  |  |  |  |  |  |  |
|     |  |  |  |  |  |  |  |  |  |  |  |  |  |  |  |  |  |  |  |  |
| A : |  |  |  |  |  |  |  |  |  |  |  |  |  |  |  |  |  |  |  |  |

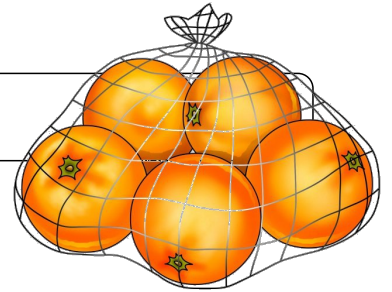
3. In einem Netz sind 5 Orangen.  
Wie viele Orangen sind in 214 Netzen?

|     |  |  |  |  |  |  |  |  |  |  |  |  |  |  |  |  |  |  |  |  |
|-----|--|--|--|--|--|--|--|--|--|--|--|--|--|--|--|--|--|--|--|--|
| R : |  |  |  |  |  |  |  |  |  |  |  |  |  |  |  |  |  |  |  |  |
|     |  |  |  |  |  |  |  |  |  |  |  |  |  |  |  |  |  |  |  |  |
|     |  |  |  |  |  |  |  |  |  |  |  |  |  |  |  |  |  |  |  |  |
| A : |  |  |  |  |  |  |  |  |  |  |  |  |  |  |  |  |  |  |  |  |

4. In einem Netz sind 5 Orangen.  
Wie viele Netze kann man mit 765 Orangen füllen?

|     |  |  |  |  |  |  |  |  |  |  |  |  |  |  |  |  |  |  |  |  |
|-----|--|--|--|--|--|--|--|--|--|--|--|--|--|--|--|--|--|--|--|--|
| R : |  |  |  |  |  |  |  |  |  |  |  |  |  |  |  |  |  |  |  |  |
|     |  |  |  |  |  |  |  |  |  |  |  |  |  |  |  |  |  |  |  |  |
|     |  |  |  |  |  |  |  |  |  |  |  |  |  |  |  |  |  |  |  |  |
| A : |  |  |  |  |  |  |  |  |  |  |  |  |  |  |  |  |  |  |  |  |

## Sachaufgaben 36b



1. Ein Netz Orangen kostet 5 Euro.  
Wie viel muss man für 3 Netze bezahlen?

|     |  |  |  |  |  |  |  |  |  |  |  |  |  |  |  |  |  |  |  |  |
|-----|--|--|--|--|--|--|--|--|--|--|--|--|--|--|--|--|--|--|--|--|
| R : |  |  |  |  |  |  |  |  |  |  |  |  |  |  |  |  |  |  |  |  |
|     |  |  |  |  |  |  |  |  |  |  |  |  |  |  |  |  |  |  |  |  |
|     |  |  |  |  |  |  |  |  |  |  |  |  |  |  |  |  |  |  |  |  |
| A : |  |  |  |  |  |  |  |  |  |  |  |  |  |  |  |  |  |  |  |  |

2. Ein Netz Orangen kostet 5 Euro.  
Wie viel muss man für 37 Netze bezahlen?

|     |  |  |  |  |  |  |  |  |  |  |  |  |  |  |  |  |  |  |  |  |
|-----|--|--|--|--|--|--|--|--|--|--|--|--|--|--|--|--|--|--|--|--|
| R : |  |  |  |  |  |  |  |  |  |  |  |  |  |  |  |  |  |  |  |  |
|     |  |  |  |  |  |  |  |  |  |  |  |  |  |  |  |  |  |  |  |  |
|     |  |  |  |  |  |  |  |  |  |  |  |  |  |  |  |  |  |  |  |  |
| A : |  |  |  |  |  |  |  |  |  |  |  |  |  |  |  |  |  |  |  |  |

3. Ein Netz Orangen kostet 5 Euro.  
Wie viele Netze kann man mit 50 Euro kaufen?

|     |  |  |  |  |  |  |  |  |  |  |  |  |  |  |  |  |  |  |  |  |
|-----|--|--|--|--|--|--|--|--|--|--|--|--|--|--|--|--|--|--|--|--|
| R : |  |  |  |  |  |  |  |  |  |  |  |  |  |  |  |  |  |  |  |  |
|     |  |  |  |  |  |  |  |  |  |  |  |  |  |  |  |  |  |  |  |  |
|     |  |  |  |  |  |  |  |  |  |  |  |  |  |  |  |  |  |  |  |  |
| A : |  |  |  |  |  |  |  |  |  |  |  |  |  |  |  |  |  |  |  |  |

4. Ein Netz Orangen kostet 5 Euro.  
Wie viele Netze kann man mit 475 Euro kaufen?

|     |  |  |  |  |  |  |  |  |  |  |  |  |  |  |  |  |  |  |  |  |
|-----|--|--|--|--|--|--|--|--|--|--|--|--|--|--|--|--|--|--|--|--|
| R : |  |  |  |  |  |  |  |  |  |  |  |  |  |  |  |  |  |  |  |  |
|     |  |  |  |  |  |  |  |  |  |  |  |  |  |  |  |  |  |  |  |  |
|     |  |  |  |  |  |  |  |  |  |  |  |  |  |  |  |  |  |  |  |  |
| A : |  |  |  |  |  |  |  |  |  |  |  |  |  |  |  |  |  |  |  |  |

# Sachaufgaben 37a



1. Eine Kiste Limo ist mit 20 Flaschen gefüllt.  
Wie viele Flaschen sind in 4 Kisten?

|     |  |  |  |  |  |  |  |  |  |  |  |  |  |  |  |  |  |  |  |
|-----|--|--|--|--|--|--|--|--|--|--|--|--|--|--|--|--|--|--|--|
| R : |  |  |  |  |  |  |  |  |  |  |  |  |  |  |  |  |  |  |  |
|     |  |  |  |  |  |  |  |  |  |  |  |  |  |  |  |  |  |  |  |
|     |  |  |  |  |  |  |  |  |  |  |  |  |  |  |  |  |  |  |  |
| A : |  |  |  |  |  |  |  |  |  |  |  |  |  |  |  |  |  |  |  |

2. Eine Kiste Limo ist mit 20 Flaschen gefüllt.  
Wie viele Flaschen sind in 9 Kisten?

|     |  |  |  |  |  |  |  |  |  |  |  |  |  |  |  |  |  |  |  |
|-----|--|--|--|--|--|--|--|--|--|--|--|--|--|--|--|--|--|--|--|
| R : |  |  |  |  |  |  |  |  |  |  |  |  |  |  |  |  |  |  |  |
|     |  |  |  |  |  |  |  |  |  |  |  |  |  |  |  |  |  |  |  |
|     |  |  |  |  |  |  |  |  |  |  |  |  |  |  |  |  |  |  |  |
| A : |  |  |  |  |  |  |  |  |  |  |  |  |  |  |  |  |  |  |  |

3. Eine Kiste Limo kostet 8 Euro. Wie viel muss man für 7 Kisten bezahlen?


|     |  |  |  |  |  |  |  |  |  |  |  |  |  |  |  |  |  |  |  |
|-----|--|--|--|--|--|--|--|--|--|--|--|--|--|--|--|--|--|--|--|
| R : |  |  |  |  |  |  |  |  |  |  |  |  |  |  |  |  |  |  |  |
|     |  |  |  |  |  |  |  |  |  |  |  |  |  |  |  |  |  |  |  |
|     |  |  |  |  |  |  |  |  |  |  |  |  |  |  |  |  |  |  |  |
| A : |  |  |  |  |  |  |  |  |  |  |  |  |  |  |  |  |  |  |  |

4. Eine Kiste Limo kostet 7,50 €. Wie viel muss man für 10 Kisten bezahlen?

|     |  |  |  |  |  |  |  |  |  |  |  |  |  |  |  |  |  |  |  |
|-----|--|--|--|--|--|--|--|--|--|--|--|--|--|--|--|--|--|--|--|
| R : |  |  |  |  |  |  |  |  |  |  |  |  |  |  |  |  |  |  |  |
|     |  |  |  |  |  |  |  |  |  |  |  |  |  |  |  |  |  |  |  |
|     |  |  |  |  |  |  |  |  |  |  |  |  |  |  |  |  |  |  |  |
| A : |  |  |  |  |  |  |  |  |  |  |  |  |  |  |  |  |  |  |  |



## Sachaufgaben 38a



1. Ein Stück Kuchen kostet 2,90 €. Wie viel muss man für 3 Stück Kuchen bezahlen?

|     |  |  |  |  |  |  |  |  |  |  |  |  |  |  |  |  |  |  |  |  |
|-----|--|--|--|--|--|--|--|--|--|--|--|--|--|--|--|--|--|--|--|--|
| R : |  |  |  |  |  |  |  |  |  |  |  |  |  |  |  |  |  |  |  |  |
|     |  |  |  |  |  |  |  |  |  |  |  |  |  |  |  |  |  |  |  |  |
|     |  |  |  |  |  |  |  |  |  |  |  |  |  |  |  |  |  |  |  |  |
| A : |  |  |  |  |  |  |  |  |  |  |  |  |  |  |  |  |  |  |  |  |

2. Ein Stück Kuchen kostet 2,85 €. Wie viel muss man für 5 Stück Kuchen bezahlen?

|     |  |  |  |  |  |  |  |  |  |  |  |  |  |  |  |  |  |  |  |  |
|-----|--|--|--|--|--|--|--|--|--|--|--|--|--|--|--|--|--|--|--|--|
| R : |  |  |  |  |  |  |  |  |  |  |  |  |  |  |  |  |  |  |  |  |
|     |  |  |  |  |  |  |  |  |  |  |  |  |  |  |  |  |  |  |  |  |
|     |  |  |  |  |  |  |  |  |  |  |  |  |  |  |  |  |  |  |  |  |
| A : |  |  |  |  |  |  |  |  |  |  |  |  |  |  |  |  |  |  |  |  |


3. Ein Stück Kuchen kostet 2,45 €. Wie viel muss man für 4 Stück Kuchen bezahlen?

|     |  |  |  |  |  |  |  |  |  |  |  |  |  |  |  |  |  |  |  |  |
|-----|--|--|--|--|--|--|--|--|--|--|--|--|--|--|--|--|--|--|--|--|
| R : |  |  |  |  |  |  |  |  |  |  |  |  |  |  |  |  |  |  |  |  |
|     |  |  |  |  |  |  |  |  |  |  |  |  |  |  |  |  |  |  |  |  |
|     |  |  |  |  |  |  |  |  |  |  |  |  |  |  |  |  |  |  |  |  |
| A : |  |  |  |  |  |  |  |  |  |  |  |  |  |  |  |  |  |  |  |  |

4. Ein Stück Kuchen kostet 2,50 €. Wie viel Stück kann man mit 10 € kaufen?

|     |  |  |  |  |  |  |  |  |  |  |  |  |  |  |  |  |  |  |  |  |
|-----|--|--|--|--|--|--|--|--|--|--|--|--|--|--|--|--|--|--|--|--|
| R : |  |  |  |  |  |  |  |  |  |  |  |  |  |  |  |  |  |  |  |  |
|     |  |  |  |  |  |  |  |  |  |  |  |  |  |  |  |  |  |  |  |  |
|     |  |  |  |  |  |  |  |  |  |  |  |  |  |  |  |  |  |  |  |  |
| A : |  |  |  |  |  |  |  |  |  |  |  |  |  |  |  |  |  |  |  |  |

## Sachaufgaben 38b



1. Ein Stück Kuchen kostet 2,90 €. Wie viel muss man für 8 Stück Kuchen bezahlen?

|     |  |  |  |  |  |  |  |  |  |  |  |  |  |  |  |  |  |  |  |  |  |  |  |
|-----|--|--|--|--|--|--|--|--|--|--|--|--|--|--|--|--|--|--|--|--|--|--|--|
| R : |  |  |  |  |  |  |  |  |  |  |  |  |  |  |  |  |  |  |  |  |  |  |  |
|     |  |  |  |  |  |  |  |  |  |  |  |  |  |  |  |  |  |  |  |  |  |  |  |
|     |  |  |  |  |  |  |  |  |  |  |  |  |  |  |  |  |  |  |  |  |  |  |  |
| A : |  |  |  |  |  |  |  |  |  |  |  |  |  |  |  |  |  |  |  |  |  |  |  |

2. Ein Stück Kuchen kostet 2,85 €. Wie viel muss man für 9 Stück Kuchen bezahlen?

|     |  |  |  |  |  |  |  |  |  |  |  |  |  |  |  |  |  |  |  |  |  |  |  |
|-----|--|--|--|--|--|--|--|--|--|--|--|--|--|--|--|--|--|--|--|--|--|--|--|
| R : |  |  |  |  |  |  |  |  |  |  |  |  |  |  |  |  |  |  |  |  |  |  |  |
|     |  |  |  |  |  |  |  |  |  |  |  |  |  |  |  |  |  |  |  |  |  |  |  |
|     |  |  |  |  |  |  |  |  |  |  |  |  |  |  |  |  |  |  |  |  |  |  |  |
| A : |  |  |  |  |  |  |  |  |  |  |  |  |  |  |  |  |  |  |  |  |  |  |  |

3. Ein Stück Kuchen kostet 2,45 €. Wie viel muss man für 7 Stück Kuchen bezahlen?

|     |  |  |  |  |  |  |  |  |  |  |  |  |  |  |  |  |  |  |  |  |  |  |  |
|-----|--|--|--|--|--|--|--|--|--|--|--|--|--|--|--|--|--|--|--|--|--|--|--|
| R : |  |  |  |  |  |  |  |  |  |  |  |  |  |  |  |  |  |  |  |  |  |  |  |
|     |  |  |  |  |  |  |  |  |  |  |  |  |  |  |  |  |  |  |  |  |  |  |  |
|     |  |  |  |  |  |  |  |  |  |  |  |  |  |  |  |  |  |  |  |  |  |  |  |
| A : |  |  |  |  |  |  |  |  |  |  |  |  |  |  |  |  |  |  |  |  |  |  |  |

4. Ein Stück Kuchen kostet 2,50 €. Wie viel Stück kann man mit 25 € kaufen?

|     |  |  |  |  |  |  |  |  |  |  |  |  |  |  |  |  |  |  |  |  |  |  |  |
|-----|--|--|--|--|--|--|--|--|--|--|--|--|--|--|--|--|--|--|--|--|--|--|--|
| R : |  |  |  |  |  |  |  |  |  |  |  |  |  |  |  |  |  |  |  |  |  |  |  |
|     |  |  |  |  |  |  |  |  |  |  |  |  |  |  |  |  |  |  |  |  |  |  |  |
|     |  |  |  |  |  |  |  |  |  |  |  |  |  |  |  |  |  |  |  |  |  |  |  |
| A : |  |  |  |  |  |  |  |  |  |  |  |  |  |  |  |  |  |  |  |  |  |  |  |